



CONCURSO PÚBLICO

PREFEITURA MUNICIPAL DE ALMIRANTE TAMANDARÉ

ESTADO DO PARANÁ

EDITAL N.º. 001/2009

INSTRUÇÕES

- 01 - Material a ser utilizado: caneta esferográfica azul ou preta. Os objetos restantes devem ser colocados em local indicado pelo fiscal da sala, inclusive aparelho celular desligado e devidamente identificado com etiqueta.
- 02 - Não é permitido consulta, utilização de livros, códigos, dicionários, apontamentos, apostilas, calculadoras e etc. Não é permitido ao candidato ingressar na sala de provas sem a respectiva identificação e o devido recolhimento de telefone celular, bip e outros aparelhos eletrônicos.
- 03 - Durante a prova, o candidato não deve levantar-se, comunicar-se com outros candidatos e nem fumar.
- 04 - A duração da prova é de 04 (quatro) horas, exceto para os candidatos aos cargos de Educador Infantil e Professor que realizarão também, provas discursivas (redação), os quais terão acréscimo de 01 (uma) hora para a realização das mesmas, perfazendo, assim, um total de 05 (cinco) horas para a realização das provas objetivas e discursivas.
- 05 - Somente em caso de urgência pedir ao fiscal para ir ao sanitário, devendo no percurso permanecer absolutamente calado, **podendo** antes e depois da entrada sofrer revista através de detector de metais. Ao sair da sala no término da prova, o candidato não poderá utilizar o sanitário. Caso ocorra uma emergência, o fiscal deverá ser comunicado.
- 06 - O Caderno de Provas consta de 50 (cinquenta) questões de múltipla escolha, exceto para os cargos de Educador Infantil e Professor, cuja prova escrita objetiva constará de 40 (quarenta) questões de múltipla escolha. Leia-o atentamente.
- 07 - As questões das provas objetivas são do tipo múltipla escolha, com 05 (cinco) opções (A a E) e uma única resposta correta.**
- 08 - Ao terminar a conferência do Caderno de Provas, caso o mesmo esteja incompleto ou tenha qualquer defeito, o candidato deverá solicitar ao fiscal de sala que o substitua, não cabendo reclamações posteriores neste sentido.
- 09 - O candidato somente poderá retirar-se do local de realização das provas objetivas a partir de decorridos 90 (noventa) minutos do início de sua realização.
- 10 - Os fiscais não estão autorizados a emitir opinião e prestar esclarecimentos sobre o conteúdo das provas. Cabe única e exclusivamente ao candidato interpretar e decidir.
- 11 - Ao terminar a prova, o candidato entregará obrigatoriamente ao fiscal de sala o Caderno de Provas, o Cartão de Respostas devidamente assinado no local indicado e o Formulário de Resposta da Prova Discursiva (somente os cargos de Educador Infantil e Professor).

RESULTADOS E RECURSOS

- Os gabaritos e os Cadernos das Provas aplicadas, para fins de recursos, estarão disponíveis nos sites www.tamandare.pr.gov.br e www.consulplan.net, a partir das 14h00min do primeiro dia útil após a aplicação das provas.
- Os recursos deverão ser apresentados, conforme determinado no **item 8 do Edital N.º. 001/2009**, sendo observados os seguintes aspectos:
- a) Será admitido recurso quanto às questões e aos gabaritos preliminares das provas somente no período de **14h00min do dia 09 de novembro de 2009 às 14h00min do dia 10 de novembro de 2009**, na forma estabelecida no item 8.4 deste Edital.
- b) A interposição de recursos poderá ser feita **somente via Internet**, através do **Sistema Eletrônico de Interposição de Recursos**, com acesso pelo candidato com o fornecimento de dados referentes à sua inscrição, apenas no prazo recursal à **Consulplan**, conforme disposições contidas no site www.consulplan.net, no **link** correlato ao Concurso Público.

atendimento@consulplan.com / www.consulplan.net

C
A
D
E
R
N
O
D
E
P
R
O
V
A
S

TEXTO:

Será esse o único caminho?

Para quem passa hoje, pela primeira vez, por algumas regiões de Minas, fica difícil imaginar que o território mineiro já foi totalmente coberto de verde. E que dentro desse espaço verde circulava tranquilamente uma infinidade de animais que nadavam, voavam, andavam, rastejavam ou saltavam. Animais de todas as cores e tamanhos que variavam de acordo com o tipo de vegetação, relevo e quantidade de rios do lugar.

Até que, num processo histórico de colonização, a população que se fixou aqui realizou grandes transformações ambientais em todas as regiões do estado.

O que resultou dessa ocupação foi um grande progresso econômico, a formação de muitas cidades, rodovias, ferrovias, indústrias, áreas de plantio e criação; e, da cobertura vegetal, o que restou foram pequenas manchas de florestas, cerrado e uma caatinga que correm o risco de extinção. A consequência lógica é: quanto menos vegetação, menos animais, menos solo, menos água e piores condições climáticas.

Com um Planeta imenso, uma natureza pródiga e uma população relativamente pequena, não houve preocupação com a preservação ambiental, por parte de nossos ancestrais. Mas a população mundial, hoje, já ultrapassou os 6 bilhões e vive um tempo em que as respostas da natureza às agressões sofridas acontecem cotidianamente. Em função de todas essas mudanças, estudiosos mostram que se não forem feitas novas escolhas, se não modificarmos nossa visão de mundo e o modelo de “desenvolvimento”, as consequências serão catastróficas.

Assim, no mundo inteiro, existem cada vez mais cientistas, pessoas, associações, empresários e ONGs trabalhando para que ocorram as mudanças necessárias.

Se intensificarmos nossas ações para melhorar o local onde vivemos, com certeza estaremos contribuindo para a melhoria da qualidade da vida no mundo. *(Revista Semeando, Edição Anual - Ano 2 - Ano 2007.)*

01) De acordo com as ideias e estrutura do texto, marque a alternativa correta:

- A) O texto apresenta um narrador e uma personagem principal.
- B) O texto apresenta informações sobre as mudanças da natureza nas regiões de Minas Gerais.
- C) O texto aborda o processo econômico e o desenvolvimento do território mineiro em relação a outras regiões.
- D) O texto é jornalístico, pois apresenta características de noticiário.
- E) O texto relata a extensão do Planeta e denota a população mundial como transformadora do aumento do verde no território mineiro.

02) Em relação ao texto “Será esse o único caminho?”, analise:

- I. A população mineira realizou grandes transformações ambientais.
- II. Quanto menos vegetação, piores serão as condições climáticas.
- III. O território mineiro já foi todo coberto de verde.

Está(ão) correta(s) apenas a(s) afirmativa(s):

- A) I, III B) II, III C) I D) I, II, III E) II

03) No trecho “Com um Planeta imenso, uma natureza pródiga e uma população relativamente pequena...” a palavra destacada possui como significado correto:

- A) estrondosa, forte
- B) inquietante
- C) separada, repartida
- D) exorbitante
- E) generosa, liberal

04) No trecho “E que dentro desse espaço verde circulava tranquilamente uma infinidade de animais que nadavam, voavam, andavam, rastejavam ou saltavam.” as vírgulas foram utilizadas para:

- A) Marcar termos deslocados.
- B) Marcar o vocativo.
- C) Isolar palavras ou expressões estranhas à língua culta.
- D) Isolar explicações.
- E) Separar palavras de mesma classe gramatical.

05) Assinale a afirmativa que apresenta a concordância correta, de acordo com os padrões da norma culta:

- A) Sucedeu, naquela época, acontecimentos inevitáveis.
- B) Mais de dois animais rastejavam.
- C) Espera-se os resultados, ou as consequências serão catastróficas.
- D) As Minas Gerais progrediu muito.
- E) Haviam, naquela época, muitos fatos estranhos.

06) Em “...se não forem feitas novas escolhas, se não modificarmos nossa visão de mundo e o modelo de ‘desenvolvimento’, as consequências serão catastróficas.” as palavras destacadas denotam ideia de:

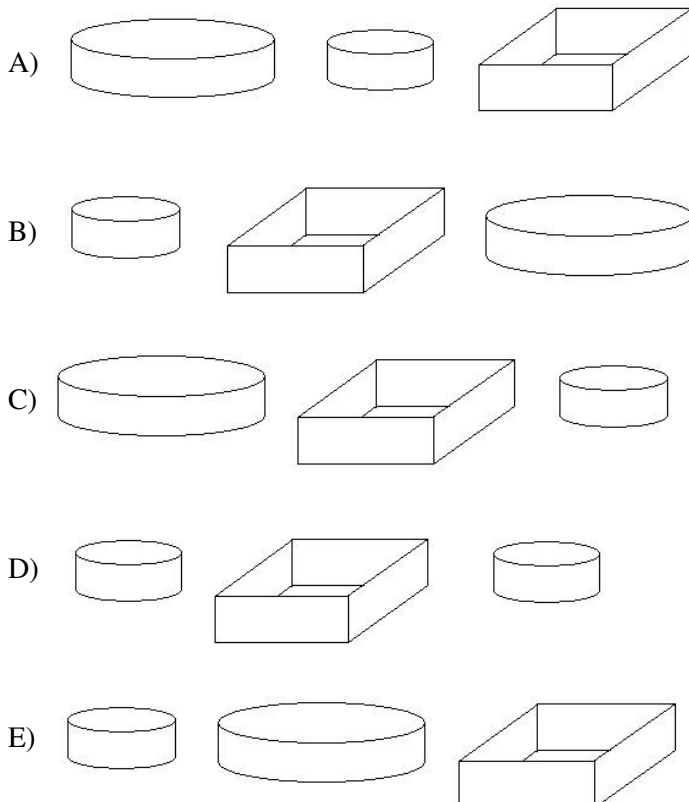
- A) Causa. B) Tempo. C) Finalidade. D) Condição. E) Proporção.



- 07) No trecho “*O que resultou dessa ocupação foi um grande progresso econômico...*” a palavra destacada foi acentuada pelo mesmo motivo que:
- A) consequência: paroxítona terminada em ditongo. D) você: oxítona terminada em “e”.
B) já: monossílabo tônico terminado em “a”. E) pólen: paroxítona terminada em “n”.
C) histórico: proparoxítona.
- 08) “*Para quem passa hoje, pela primeira vez, por algumas regiões de Minas, fica difícil imaginar que o território mineiro já foi totalmente coberto de verde.*” As palavras destacadas no trecho anterior apresentam, respectivamente:
- A) dígrafo, ditongo, ditongo D) tritongo, ditongo, ditongo
B) encontro consonantal, ditongo, dígrafo E) encontro consonantal, encontro vocálico, ditongo
C) encontro vocálico, dígrafo, ditongo
- 09) “*Mas a população mundial, hoje, já ultrapassou os 6 bilhões e vive um tempo em que as respostas da natureza às agressões sofridas acontecem cotidianamente.*” Quanto às classes de palavras, as palavras destacadas no trecho anterior são, respectivamente:
- A) verbo, artigo, verbo, substantivo, pronome D) substantivo, artigo, verbo, artigo, advérbio
B) advérbio, substantivo, verbo, artigo, pronome E) substantivo, verbo, artigo, advérbio, adjetivo
C) substantivo, artigo, verbo, substantivo, advérbio
- 10) Assinale a alternativa em que a palavra apresentada nos parênteses possui significado contrário ao da palavra destacada no trecho:
- A) “...contribuindo para a melhoria da qualidade da vida no mundo.” (colaborando)
B) “O que resultou dessa ocupação...” (procedeu)
C) “...a população que se fixou aqui realizou grandes transformações ambientais em todas as regiões do estado.” (assentou, estabeleceu)
D) “Em função de todas essas mudanças...” (uso, utilidade)
E) “Se intensificarmos nossas ações para melhorar o local onde vivemos...” (agravar)

MATEMÁTICA

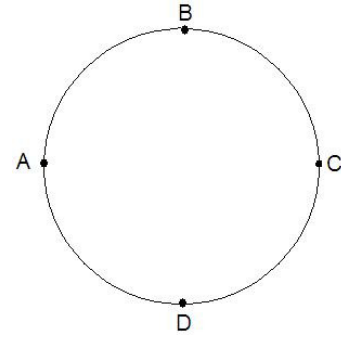
- 11) Numa padaria são vendidas tortas de limão, maçã e abacaxi. As tortas de maçã e de limão são preparadas em formas cilíndricas, sendo que o raio da base da forma em que é preparada a torta de limão é igual ao diâmetro daquela em que é preparada a torta de maçã. Já a torta de abacaxi é preparada em uma forma, cuja base é uma superfície retangular. Qual das opções a seguir representa as formas das tortas de limão, abacaxi e maçã, respectivamente?



CONCURSO PÚBLICO – PREFEITURA MUNICIPAL DE ALMIRANTE TAMANDARÉ/PR

12) Na figura abaixo, unindo-se por segmentos de reta os pontos A, B, C e D nessa ordem e, retornando ao ponto A, obtém-se uma figura, cuja região interna é uma superfície:

- A) Triangular.
- B) Circular.
- C) Quadrangular.
- D) Semicircular.
- E) Não-plana.



13) A ampulheta é um instrumento de medida do tempo através do fluxo de areia, contido em um recipiente de vidro entre duas regiões. Considerando que o fluxo é sempre constante, e que para verter toda a areia de uma certa ampulheta são necessários 7 minutos, assinale o tempo transcorrido, quando exatamente $\frac{2}{3}$ do volume de areia, se encontrarem na região superior da ampulheta:

- A) 1 minuto e 45 segundos.
- B) 1 minuto e 50 segundos.
- C) 2 minutos e 20 segundos.
- D) 2 minutos e 35 segundos.
- E) 2 minutos e 45 segundos.

14) Uma determinada piscina tem capacidade para 1600 m³ de água. Considerando que 1 litro de água tem 1kg e que um metro cúbico corresponda a 1000 litros, assinale a capacidade dessa piscina em toneladas:

- A) 16
- B) 160
- C) 1600
- D) 16.000
- E) 160.000

15) Para a realização de uma obra foram encomendados 4500 tijolos, cujo peso de cada unidade é 2,2 kg. Se $\frac{2}{5}$ dessa encomenda foram rejeitados por defeito de fabricação, quantas toneladas de tijolos poderão ser aproveitadas?

- A) 5,46
- B) 5,64
- C) 5,94
- D) 6,24
- E) 6,32

16) Numa adega foram construídas 48 prateleiras com capacidade para comportar até 22 garrafas de vinho cada. Qual volume em litros dessa bebida há na adega, se todas as garrafas armazenadas contêm 750 ml de vinho e exatamente $\frac{2}{3}$ do espaço total das prateleiras estão ocupados?

- A) 348
- B) 528
- C) 424
- D) 632
- E) 296

17) Marcos toma dois banhos diários e consome nestes banhos, um total de 270 litros de água. Se em cada banho Marcos gasta 15 minutos, quanto economizaria de água por semana, se tomasse apenas um banho por dia, de 12 minutos?

- A) 1134 litros.
- B) 1236 litros.
- C) 1346 litros.
- D) 1464 litros.
- E) 1538 litros.

18) Numa avenida apenas $\frac{5}{8}$ dos postes apresentam iluminação, e desses, $\frac{1}{3}$ estão desligados, correspondendo a 15 postes. Quantos postes há nessa avenida?

- A) 68
- B) 72
- C) 62
- D) 64
- E) 76

19) Duas televisões de tamanhos diferentes apresentam 20 e 29 polegadas, cujas medidas são das diagonais de suas telas. Qual é a diferença entre as diagonais desses dois aparelhos, se cada polegada equivale a 2,54cm?

- A) 26,42 cm
- B) 24,62 cm
- C) 22,86 cm
- D) 24,46 cm
- E) 23,54 cm

20) Adriana começou um regime e já perdeu dois quilogramas e meio. Além disso, ela faz caminhadas de dois quilômetros, num intervalo de meia hora, todos os dias. Na informação sobre a rotina de Adriana, as unidades de medidas usadas respectivamente, são:

- A) Tempo, massa e comprimento.
- B) Comprimento, massa e tempo.
- C) Massa, tempo e comprimento.
- D) Massa, comprimento e tempo.
- E) Comprimento, tempo e massa.

CONHECIMENTOS ESPECÍFICOS

21) Segundo a Lei nº 8.080/90, a Saúde tem como fatores determinantes e condicionantes, EXCETO:

- A) O saneamento básico.
- B) A educação.
- C) A raça.
- D) O trabalho.
- E) A renda.

22) Sobre o Sistema Único de Saúde marque a alternativa correta:

- A) A iniciativa privada poderá participar do SUS em caráter complementar.
- B) Famílias que não contribuem com a previdência social não têm direito de acesso aos serviços e ações do SUS.
- C) Têm privilégios na assistência à saúde pelo SUS as famílias de baixa renda.
- D) O SUS não disponibiliza universalidade de acesso aos serviços de saúde em todos os níveis de assistência.
- E) Não faz parte do campo de atuação do SUS a vigilância nutricional e a orientação alimentar.



23) São competências do Agente Comunitário de Saúde:

- I. Visitar pelo menos uma vez ao mês cada família residente na sua área de atuação.
- II. Prescrever medicamentos para as pessoas que não têm condições de ir até a Unidade de Saúde.
- III. Registrar na ficha de cadastro do Sistema de Informação de Atenção Básica – SIAB informações sobre cada membro da família assistida a respeito de variáveis que influenciam a qualidade da saúde.
- IV. Identificar situação de risco e encaminhar aos setores responsáveis.

Estão corretas apenas as afirmativas:

- A) I, II, IV B) I, III, IV C) II, III D) II, IV E) I, II, III, IV

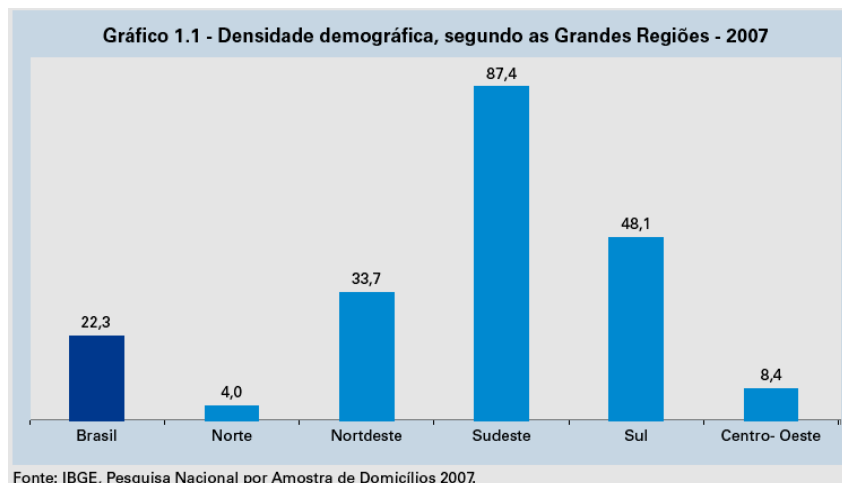
24) O Agente Comunitário de Saúde (ACS) atua como um elo, ligando de forma efetiva a comunidade e as unidades de saúde. O ACS, dependendo das necessidades locais, deverá atender a um número, que varia entre:

- A) 100 e 200 pessoas. D) 750 e 1000 pessoas.
B) 200 e 400 pessoas. E) 1000 e 2000 pessoas.
C) 400 e 750 pessoas.

25) A Influenza A (H1N1) é uma doença respiratória aguda (gripe), causada pelo vírus A (H1N1). Este novo subtipo do vírus da influenza é transmitido de pessoa a pessoa, principalmente por meio da tosse ou espirro e de contato com secreções respiratórias de pessoas infectadas. São medidas para se prevenir da gripe, EXCETO:

- A) Lavar as mãos frequentemente com água e sabão.
- B) Cobrir o rosto com um lenço descartável, quando espirrar ou tossir.
- C) Não compartilhar alimentos, copos e objetos de uso pessoal.
- D) Deixar os ambientes coletivos com portas e janelas fechadas.
- E) Evitar aglomerações de pessoas.

26) Os indicadores demográficos são de grande relevância, quando se quer configurar o perfil socioeconômico da população brasileira, pois expressam os níveis e os padrões da composição populacional e sua distribuição espacial. Com base no conceito de Densidade Demográfica e na análise do gráfico abaixo, marque a alternativa correta:



- A) A região Sudeste possui maior área territorial.
- B) A região Norte possui menor área territorial.
- C) O Brasil possui 22,3 milhões de habitantes.
- D) A região Centro-Oeste corresponde a 8,4% do território nacional.
- E) A região Sul possui 48,1 habitantes por Km².

27) Indicadores são medidas utilizadas para descrever e analisar uma situação existente, avaliar o cumprimento de objetivos, metas e suas mudanças ao longo do tempo, além de confirmar tendências passadas e prever tendências futuras. São construídos de acordo com o que se quer medir. Os indicadores de morbidade referem-se ao:

- A) Total de mortes por uma determinada doença e um intervalo de tempo e lugar.
- B) Número de pessoas que sobrevivem a uma doença ou agravo à saúde.
- C) Conjunto de indivíduos que adquirem uma determinada doença em um dado intervalo de tempo e lugar.
- D) Potencial de uma epidemia causar mortes na população.
- E) Número de nascidos vivos em um determinado período e lugar.

28) São doenças que podem ser prevenidas através da vacinação das pessoas, EXCETO:

- A) Hepatite B. B) Diabetes. C) Tuberculose. D) Difteria. E) Poliomielite.



CONCURSO PÚBLICO – PREFEITURA MUNICIPAL DE ALMIRANTE TAMANDARÉ/PR

- 29) A dengue é um dos principais problemas de saúde pública no mundo. A Organização Mundial da Saúde (OMS) estima que entre 50 a 100 milhões de pessoas se infectem anualmente, em mais de 100 países de todos os continentes, exceto a Europa. Cerca de 550 mil doentes necessitam de hospitalização e 20 mil morrem em consequência da dengue. A dengue é transmitida ao homem através do(a):
- A) Relação sexual sem preservativo.
 - B) Ingestão de larvas através de alimentos ou água contaminada.
 - C) Inalação do vírus através do ar.
 - D) Contato com pessoas doentes.
 - E) Picada do mosquito *Aedes aegypti* contaminado com o vírus da dengue.
- 30) Tendo por base o Estatuto da Criança e do Adolescente, marque a alternativa correta:
- A) Os estabelecimentos de atenção à saúde das gestantes são obrigados a proceder a exames, visando ao diagnóstico e terapêutica de anormalidades no metabolismo do recém-nascido.
 - B) O Sistema Único de Saúde não é obrigado a prestar assistência especializada à criança e ao adolescente portadores de deficiência.
 - C) A vacinação das crianças não é obrigatória nos casos recomendados pelas autoridades sanitárias.
 - D) Não é assegurado à gestante, através do SUS, atendimento perinatal.
 - E) Não incube ao poder público propiciar apoio alimentar à gestante e à nutriz que dele necessitem.
- 31) A Hipertensão Arterial (HA), em nosso meio, tem prevalência estimada em cerca de 20% da população adulta (maior ou igual a 20 anos). Sobre a HA marque a alternativa INCORRETA:
- A) A alimentação saudável ajuda a preveni-la e evitá-la.
 - B) É uma doença infectocontagiosa.
 - C) A obesidade é um fator de risco para a HA.
 - D) A prática regular de atividade física colabora no tratamento.
 - E) Necessita de controle rigoroso para evitar complicações.
- 32) “O aumento do número de casos de uma doença acima do número que se esperava, caracterizado por uma larga distribuição espacial, atingindo várias nações”, denomina-se:
- A) Surto.
 - B) Epidemia.
 - C) Pandemia.
 - D) Endemia.
 - E) Curva epidêmica.
- 33) A organização da Atenção Básica coloca a necessidade de territorialização, com descrição da clientela atendida. O espaço geográfico de atuação do Agente Comunitário de Saúde é definido por:
- A) Microárea.
 - B) Bairro.
 - C) Área.
 - D) Lócus.
 - E) Território.
- 34) É direito do idoso, de acordo com Estatuto do Idoso, EXCETO:
- A) É assegurada aos maiores de sessenta e cinco anos a gratuidade dos transportes coletivos públicos urbanos e semi-urbanos, exceto nos serviços seletivos e especiais, quando prestados paralelamente aos serviços regulares.
 - B) O idoso tem direito ao exercício de atividade profissional, respeitadas suas condições físicas, intelectuais e psíquicas.
 - C) Incumbe ao Poder Público fornecer aos idosos, gratuitamente, medicamentos, especialmente os de uso continuado, exceto próteses, órteses e outros recursos relativos ao tratamento, habilitação ou reabilitação.
 - D) Ao idoso internado ou em observação é assegurado o direito a acompanhante, devendo o órgão de saúde proporcionar as condições adequadas para a sua permanência em tempo integral, segundo o critério médico.
 - E) Aos idosos, a partir de 65 (sessenta e cinco) anos, que não possuam meios para prover sua subsistência, nem de tê-la provida por sua família, é assegurado o benefício mensal de 1 (um) salário-mínimo, nos termos da Lei Orgânica da Assistência Social – Loas.
- 35) O princípio que dita a igualdade da Atenção à Saúde, sem privilégios ou preconceitos e que o SUS deve disponibilizar recursos e serviços de forma justa, de acordo com as necessidades de cada um é:
- A) Fraternidade.
 - B) Equidade.
 - C) Universalidade.
 - D) Bondade.
 - E) Humanização.
- 36) A equipe mínima que compõe uma equipe do Programa Saúde da Família é:
- A) Um médico, um enfermeiro, um auxiliar de enfermagem e agentes comunitários de saúde.
 - B) Um médico, um assistente social e um enfermeiro.
 - C) Um médico, um assistente social, um enfermeiro e agentes comunitários de saúde.
 - D) Um assistente social, um enfermeiro, um odontólogo e agentes comunitários de saúde.
 - E) Um enfermeiro, um auxiliar de enfermagem e agentes comunitários de saúde.



CONCURSO PÚBLICO – PREFEITURA MUNICIPAL DE ALMIRANTE TAMANDARÉ/PR

- 37) A desidratação ocorre quando o corpo humano não tem água suficiente para realizar suas funções normais. Ela pode ser leve e causar sintomas como fraqueza, tontura, dor de cabeça, fadiga, podendo levar à morte. Para prevenir a desidrataç o durante o curso de algumas doenas podemos utilizar o soro caseiro, uma medida simples, barata e eficaz. Os ingredientes principais do soro caseiro s o:
- A)  lcool e mel. D)  gua, auar e mel.
B)  gua, auar e bicarbonato de s dio. E)  gua, auar e sal.
C)  gua e bicarbonato de s dio.
- 38) O instrumento utilizado na Sa de para obteno de dados de monitoramento do Estado Nutricional e do Consumo Alimentar das pessoas que frequentam as Unidades B sicas do SUS  :
- A) SIA/SUS. B) SIAB. C) SISVAN. D) SINASC. E) SINAN.
- 39) Compete ao munic pio de Almirante Tamandar  organizar e prestar, diretamente ou sob regime de concess o ou permiss o entre outros, os seguintes servios:
- I. Abastecimento de  gua e esgotos sanit rios.
II. Mercados, feiras e matadouros locais.
III. Limpeza p blica, coleta domiciliar e destinao final do lixo.
IV. Iluminao p blica.
- Est o corretas apenas as alternativas:
- A) I, II, III B) II, IV C) III, IV D) I, II, III, IV E) II, III, IV
- 40) “S o s mbolos do munic pio de Almirante Tamandar , o _____, a _____ e o _____, representativos de sua cultura e hist ria.” (art. 6  da Lei Org nica Municipal de Almirante Tamandar ) Assinale a alternativa que completa corretamente o artigo citado:
- A) bras o, bandeira, hino
B) petr leo, energia el trica, g s natural
C) vereador, c mara municipal, poder legislativo
D) plano diretor, bandeira, oramento anual
E) hino, c mara municipal, bras o

CONHECIMENTOS GERAIS

- 41) “Inflao   um conceito econ mico que representa o aumento de preo dos produtos num pa s, regi o ou cidade, durante determinado per odo. Uma das medidas da inflao no Brasil   dada pelo _____,  ndice calculado pelo IBGE (Instituto Brasileiro de Geografia e Estat stica).” Assinale a alternativa que completa corretamente a afirmativa anterior:
- A) IPCA B) INSS C) IPI D) IPVA E) IPHAN
- 42) “O princ pio da seleo natural   usado como base de f rmulas matem ticas rodadas em diversos programas de computador. Sistemas de busca, a exemplo do Google, priorizam os sites mais acessados. Assim, quanto mais cliques uma determinada p gina recebe, mais chances tem de ficar em boa posio.” (Galileu – Vest – p g 66.) Tal princ pio, o da “seleo natural”, foi usado pela primeira vez na  rea da biologia, idealizado pelo famoso cientista:
- A) Gregor Mendel. D) Oswaldo Cruz.
B) Charles Darwin. E) Albert Einstein.
C) Galileu Galilei.
- 43) Criado em 2002, o Programa de Incentivo  s Fontes de Energia El trica (PROINFA), est  ampliando a produo de pequenas hidrel tricas e termel tricas de Biomassa Agr cola. S  a produo brasileira de arroz, acima de 10 milh es de toneladas ao ano, produz mais de dois milh es de toneladas de casca, capazes de gerar 200mw a 250mw de energia, segundo dados oficiais. Como insumos de biomassa agr cola, que v m sendo utilizados na transformao de energia el trica no Brasil, podemos apontar, al m da casca do arroz:
- A) Lixo inorg nico e detritos hospitalares.
B) Res duos minerais, etanol, diesel e soja.
C) H mus, res duos de sais minerais, restos de embalagens pet e madeira.
D) Esterco, res duos agr colas, restos de alimentos org nicos, bagao de cana-de-auar e res duos de madeira.
E) Res duos agr colas, res duos industriais, materiais radioativos inutilizados e lixo recicl vel.
- 44) As cidades que disputaram com o Rio de Janeiro o direito de ser a sede dos Jogos Ol mpicos e Paraol mpicos de 2016, s o:
- A) Barcelona, Paris e Roma. D) Chicago, Bogot  e Venezuela.
B) Shangai, S o Paulo e Washington. E) Nova York, Mil o e Madri.
C) T quio, Chicago e Madri.



CONCURSO PÚBLICO – PREFEITURA MUNICIPAL DE ALMIRANTE TAMANDARÉ/PR

- 45) As diversas formas que o estado assumiu na sociedade capitalista estiveram ligadas à soberania popular. Porém, tal soberania só se torna efetiva com a representação pelo voto. Nos dias atuais, o voto no Brasil é feito:
- A) Apenas em trânsito, via correio ou internet.
 - B) Através de urnas eletrônicas e em caso de defeito do equipamento, a justiça eleitoral utiliza cédula de papel.
 - C) Por voto indireto, via colégio eleitoral.
 - D) Por voto direto, através da legenda dos partidos aos quais o eleitor é filiado.
 - E) Por voto secreto, utilizando o método impresso, de cédulas do STF ou oral (aberto), com testemunhas.

CONHECIMENTOS LOCAIS

- 46) Sobre o município de Almirante Tamandaré, marque **V** para as afirmativas verdadeiras e **F** para as falsas:
- () As lavouras que se encontram no Brasão do município de Almirante Tamandaré referem-se à fertilidade do solo do município.
 - () A Bandeira do município de Almirante Tamandaré tem, na cor verde, a representação das riquezas naturais do município.
 - () O atual Hino do município de Almirante Tamandaré foi criado em 1993, em substituição ao anterior, que segundo alguns moradores do município, pouco tinha da atual realidade.

A sequência está correta em:

- A) V, F, V
 - B) V, V, V
 - C) F, F, V
 - D) V, V, F
 - E) F, V, F
- 47) São festas, comemorações e atividades do município de Almirante Tamandaré, EXCETO:
- A) Festa de Santa Luzia.
 - B) Festa de Santo Antônio.
 - C) Festa da Padroeira Nossa Senhora da Conceição.
 - D) Festa do Morango.
 - E) Festa das Rosas.

- 48) As atividades econômicas desenvolvidas no município de Almirante Tamandaré referem-se à produção agrícola e ao extrativismo mineral. Quanto ao extrativismo mineral, assinale abaixo o principal minério explorado nesse município:

A) Bauxita. B) Calcário. C) Ferro. D) Argila. E) Granito.

- 49) Assinale abaixo um município limítrofe ao município de Almirante Tamandaré:

A) Ponta Grossa. D) Curitiba.
B) Rancho Alegre. E) Pinhão.
C) Londrina.

- 50) “Antiga pedreira de calcário desativada. Área particular que atrai o visitante pelo privilégio da visualização da paisagem.” A afirmativa anterior refere-se a uma atração turística do município de Almirante Tamandaré.

Assinale-a:

A) Rio Passaúna. D) Gruta do Sumidouro.
B) Morro Daledone. E) Rodovia dos Minérios.
C) Estrada do Açungui.

